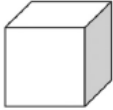




Die Übungstheke im Unterricht

7. Klasse	Skizzieren als Block über 8 Wochen		
8. Klasse	Raumbilder	Normal- projektion	SOLID EDGE
9. Klasse			
10. Klasse			

Übungen




Gesucht: Raumbild eines Quaders
(in Isometrie: Vorderansicht von **rechts**)

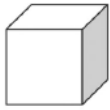
III
SB 140

Grundkörper 100 x 80 x 50

Teilabschrägung 70 x 40 x 40, vorne oben links

Stufe 70 x 80 x 40, vorne rechts

fachlehrerseite.de 



Gesucht: Raumbild eines Quaders

(in Isometrie: Vorderansicht von links)

III

SB 129

Grundkörper 60 x 90 x 110

Durchbruch 60 x 30 x 50, mittig rechts

Teilstufe 20 x 60 x 90, hinten oben rechts

fachlehrerseite.de

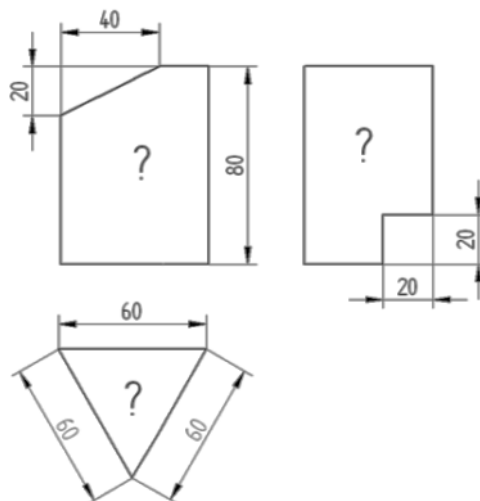


Gesucht: Normalprojektion

Quader mit Veränderungen

II

SB 27



fachlehrerseite.de

